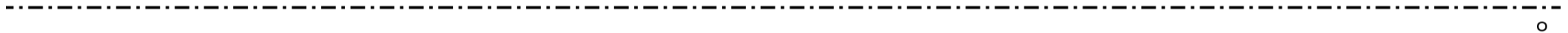


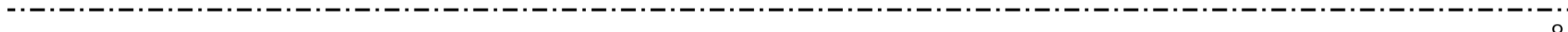
Jméno:

Varianta B

1) Předmět je 2 cm vysoký, 8 cm od vrcholu vypuklého zrcadla s poloměrem křivosti 10 cm. Najdi obraz a popiš jeho vlastnosti.



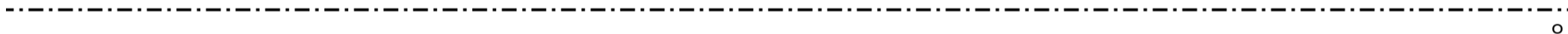
2) Předmět je 2 cm vysoký, 3 cm od vrcholu dutého zrcadla s poloměrem křivosti 10 cm. Najdi obraz a popiš jeho vlastnosti.



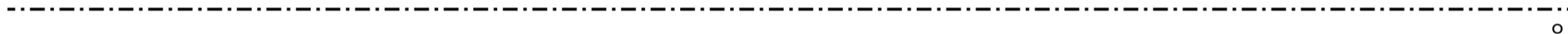
Jméno:

Varianta A

1) Předmět je 2 cm vysoký, 3 cm od vrcholu vypuklého zrcadla s poloměrem křivosti 10 cm. Najdi obraz a popiš jeho vlastnosti.



2) Předmět je 2 cm vysoký, 12 cm od vrcholu dutého zrcadla s poloměrem křivosti 10 cm. Najdi obraz a popiš jeho vlastnosti.



o